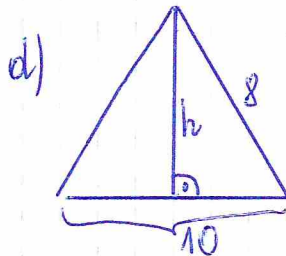
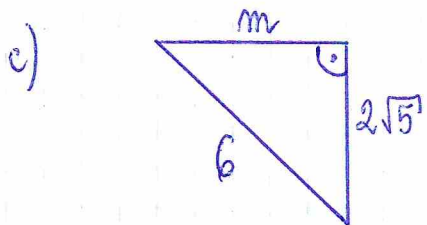
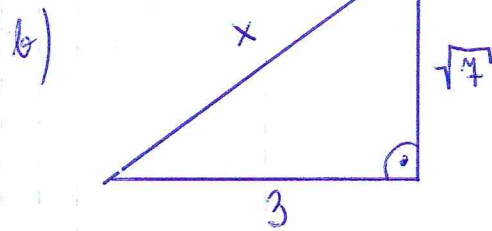
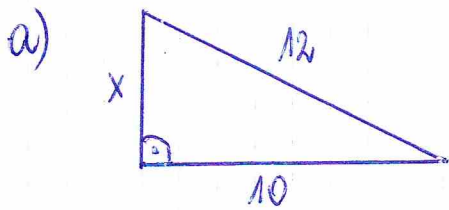


kl. 8 (POPRAWA)

1. Oblicz długości odcinków oznaczonych literami:



2. Oblicz długość przekątnej kwadratu o boku długości 12 cm .
3. Oblicz pole trójkąta równobocznego o boku długości 6 dm .
4. Oblicz wysokość trójkąta równobocznego o boku długości 10 cm .
5. Oblicz długość przekątnej prostokąta o bokach 9 cm i 2 cm .
6. W trójkącie prostokątnym ABC przyprostokątna AC ma 5 cm , a przeciwprostokątna BC ma 13 cm . Oblicz długość trzeciego boku trójkąta ABC .