



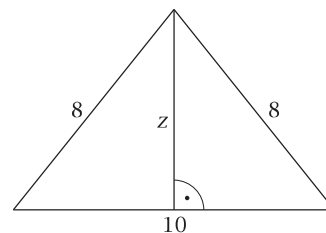
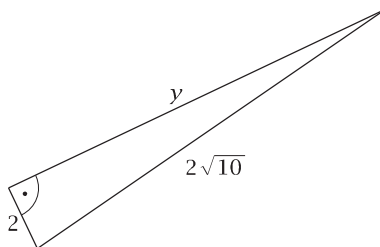
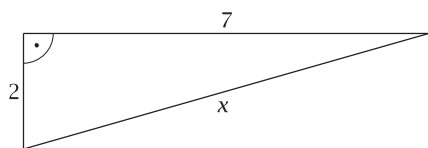
.....
imię i nazwisko

.....
lp. w dzienniku

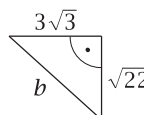
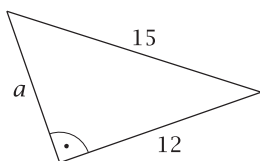
.....
klasa

.....
data

1. Oblicz długości odcinków x , y , z .



2. Oblicz długości odcinków oznaczonych literami.



3. Oblicz długość przekątnej prostokąta o bokach 6 cm i 7 cm.
4. Oblicz długość boku rombu o przekątnych 32 cm i 24 cm.
5. Oblicz długość przekątnej kwadratu o boku 14 cm.
6. Oblicz wysokość trójkąta równobocznego o boku 38 cm.
7. Oblicz długość boku kwadratu o przekątnej 14.
8. Oblicz pole trójkąta równobocznego o boku długości 10cm.